

Ukryte kurczaki








1			1			0			1
		3					3		
	2			2	1			3	
2			2						1
		4			2		1		
		4		4			1		
0						1			1
	1			2	1			1	
		1					2		
2			0			1			2

W dwudziestu polach diagramu ukryto kurczaki. Cyfra w danym polu oznacza, w ilu sąsiednich kratkach – stykających się z polem z cyfrą bokiem lub rogiem – znajduje się kurczak. W kratkach z cyframi kurczaków nie ma. Oznacz wszystkie pola z kurczakami.

PRZYKŁAD:

1				
		3		2
	2		4	
1		1		
				2

→

1				
		3		2
	2		4	
1		1		
				2